



PREFEITURA MUNICIPAL DE OSASCO
ESTADO DE SÃO PAULO

CONCURSO PÚBLICO

001. PROVA OBJETIVA

AGENTE DE TRÂNSITO

- ◆ Você recebeu sua folha de respostas e este caderno contendo 40 questões objetivas.
- ◆ Confira seus dados impressos na capa deste caderno e na folha de respostas.
- ◆ Quando for permitido abrir o caderno, verifique se está completo ou se apresenta imperfeições. Caso haja algum problema, informe ao fiscal da sala para a devida substituição desse caderno.
- ◆ Leia cuidadosamente todas as questões e escolha a resposta que você considera correta.
- ◆ Marque, na folha de respostas, com caneta de tinta preta, a letra correspondente à alternativa que você escolheu.
- ◆ A duração da prova é de 3 horas, já incluído o tempo para o preenchimento da folha de respostas.
- ◆ Só será permitida a saída definitiva da sala e do prédio após transcorridos 75% do tempo de duração da prova.
- ◆ Deverão permanecer em cada uma das salas de prova os 3 últimos candidatos, até que o último deles entregue sua prova, assinando termo respectivo.
- ◆ Ao sair, você entregará ao fiscal a folha de respostas e este caderno.
- ◆ Até que você saia do prédio, todas as proibições e orientações continuam válidas.

AGUARDE A ORDEM DO FISCAL PARA ABRIR ESTE CADERNO.

Nome do candidato _____

RG _____

Inscrição _____

Prédio _____

Sala _____

Carteira _____

CONHECIMENTOS GERAIS

LÍNGUA PORTUGUESA

Leia a tira para responder às questões de números 01 e 02.



(Willian Leite. *Anésia* # 708. www.willtirando.com.br, 05.09.2023)

01. É correto afirmar que o efeito de humor da tira decorre do fato de que

- (A) as senhoras recorrem a um sentido de “andar” diferente daquele que a jovem pretendeu em sua fala.
- (B) a jovem compara o mau humor de sua vó com o de Anésia, sem se dar conta de que são humores distintos.
- (C) a avó da jovem se sente ofendida porque sua neta não compreende as suas dores que lhe causam o mau humor.
- (D) dona Anésia é comunicada que seu mau humor não é algo exclusivo, para que assim mude sua atitude.
- (E) o recado dado por dona Anésia, no último quadro, é uma forma de mostrar que ela não se sentiu intimidada.

02. No trecho “Saiba que estou mal-humorada também enquanto tô parada” (2º quadro), a palavra **saiba** foi empregada no mesmo modo verbal que a destacada em:

- (A) **Pensava** constantemente em como diria a avó que seu humor estava ficando ácido.
- (B) **Gostaria** de poder contar com mais compreensão de meus filhos e netos próximos.
- (C) **Escute** aquilo que os mais idosos têm a dizer, pois isso pode melhorar o humor deles.
- (D) **Trazia** consigo sempre um amargor que lhe era típico, e todos já até achavam graça.
- (E) Ainda que minha neta **relute** em aceitar o meu jeito, não pretendo mudar como eu sou.

Leia o texto para responder às questões de números 03 a 07.

Tenho lido matérias que defendem a ideia de que viajar não é tão fundamental e que os turistas deveriam parar com tanta andança sem sentido. Alguns italianos concordam. “Não venham mais!”, têm gritado das janelas os nativos que ainda moram em Veneza, cidade que recentemente foi considerada pela Organização das Nações Unidas para a Educação, a Ciência e a Cultura (Unesco) um patrimônio em risco. Não demorará para Veneza ser ocupada só por visitantes, e aí não será mais uma cidade, e sim uma Disney para adultos, uma cenografia.

Ainda que eu concorde que alguns lugares precisam controlar a entrada de tanta gente, como faz Fernando de Noronha, jamais defenderei que viajar é uma banalidade dispensável. Sei que é possível ser muito feliz sem jamais colocar os pés em um aeroporto — não eu.

Por que viajar precisa ser um estado de exceção? Passamos grande parte da vida morando no mesmo endereço, com alguns intervalos de fuga. Imagine o inverso: viajar constantemente, com alguns intervalos de permanência. Eu sei, o ser humano precisa manter vínculos emocionais e ter um emprego a fim de ganhar dinheiro para sobreviver; não é prudente se aventurar (palavrinha tentadora, aventura: injustamente associada a algo temporário).

Não consigo chamar de aventureiro aquele que se dedica a conhecer o planeta em sua vasta representação, em vez de comprar uma geladeira, um fogão e formar família. Como eu fiz, e você, provavelmente, também. Não nos arrependemos, mas, no fundo, sabemos que estamos cumprindo ordens. A sociedade costuma ser intransigente com os nômades.

Não fomos educados para as possibilidades de conexão com etnias variadas, para uma expansão geográfica que nos transforme de fato em cidadãos do mundo. A segurança nos atrai na mesma medida que a liberdade nos assusta. Compensamos nosso comodismo com livros que são mais baratos que passagens aéreas. E, quando dá, fazemos turismo. Cada viagem de 10 dias ou de um mês é um jeito de colocar a cabeça para fora da gaiola. Depois, voltamos para casa ainda mais comprometidos com nossas raízes: condicionados ou não, optamos pelo amor romântico, pela criação de filhos, pelos cuidados com os pais. De tempos em tempos, confirmar que existe muito mais do que isso é nosso ato de bravura. Mas aventura mesmo é ficar.

(Martha Medeiros. *Pouso e decolagem*.
<https://oglobo.globo.com>, 05.11.2023. Adaptado)

03. A partir da leitura do texto, é correto afirmar que a sua autora considera o ato de viajar uma
- (A) atividade que as pessoas devem evitar, para o bem próprio, por ser dispendiosa.
 - (B) experiência necessária, mesmo indo de encontro ao que a sociedade espera.
 - (C) forma de expressar rebeldia e que, por isso, deve ser feito esporadicamente.
 - (D) necessidade, mas que, por ser perigosa, é compensada com a leitura de livros.
 - (E) obrigação imposta por uma sociedade movida pelas fotos em lugares paradisíacos.
04. Quanto à presença excessiva de turistas em certos lugares, é correto afirmar que a autora
- (A) argumenta que locais pouco visitados precisam adotar medidas que os tornem atrativos.
 - (B) entende serem justificáveis medidas que reduzam o turismo desmedido em certas localidades.
 - (C) tem comum entendimento com alguns italianos de que as cidades não são para os turistas.
 - (D) defende que a cidade de Veneza pode lucrar significativamente caso se torne cenográfica.
 - (E) acredita que quem vai a Fernando de Noronha não tem um motivo legítimo para visitar a ilha.
05. No trecho “A sociedade costuma ser **intransigente** com os nômades” (4º parágrafo), a palavra destacada tem como **antônimo** no contexto em que foi empregada:
- (A) intolerante.
 - (B) persecutória.
 - (C) indiferente.
 - (D) flexível.
 - (E) intimidante.
06. No texto, foi empregada em sentido figurado a palavra destacada em:
- (A) Não demorará para Veneza ser ocupada só por **visitantes**, e aí não será mais uma cidade... (1º parágrafo)
 - (B) Sei que é possível ser muito feliz sem jamais colocar os pés em um **aeroporto** — não eu. (2º parágrafo)
 - (C) Passamos grande parte da vida morando no mesmo **endereço**, com alguns intervalos de fuga. (3º parágrafo)
 - (D) A segurança nos atrai na mesma medida que a **liberdade** nos assusta. (5º parágrafo)
 - (E) Depois, voltamos para casa ainda mais comprometidos com nossas **raízes**... (5º parágrafo)
07. Assinale a alternativa em que o acréscimo de uma vírgula ao trecho do texto mantém a correção gramatical.
- (A) Tenho lido matérias que defendem a ideia de que viajar, não é tão fundamental...
 - (B) Ainda que eu concorde que, alguns lugares precisam controlar a entrada de tanta gente...
 - (C) Não fomos educados, para as possibilidades de conexão com etnias variadas...
 - (D) Compensamos nosso comodismo com livros, que são mais baratos que passagens aéreas.
 - (E) De tempos em tempos, confirmar que existe muito mais do que isso, é nosso ato de bravura.
08. Assinale a alternativa em que a frase está redigida em conformidade com a norma-padrão de emprego e colocação pronominal.
- (A) Há matérias defendendo a ideia de que viajar não é tão fundamental, e a autora tem lido-as.
 - (B) O planeta é muito vasto, e quem se dedica a conhecer-lhe não deveria ser chamado de aventureiro.
 - (C) A entrada de visitantes nas cidades normalmente é algo livre, porém algumas delas já controlam-a.
 - (D) A conexão com etnias diversas transforma, mas não a praticamos, pois não fomos preparados para isso.
 - (E) Vivemos em uma sociedade que sujeita-nos a estar por toda a vida presos a um mesmo lugar.

09. No Brasil, o aumento de turistas em períodos de férias _____ engarrafamentos, blecautes, falta ou encarecimento de insumos e poluição. Porto de Galinhas (PE), Pipa (RN) e outras cidades do litoral paulista, como Santos, Praia Grande e Ilhabela também sofrem.

“A infraestrutura desses lugares não foi projetada para suportar a quantidade de pessoas que _____”, diz Lúcia Silveira Santos, doutoranda em Turismo.

Em 2022, _____ mais de 3,6 milhões de turistas internacionais que visitaram o Brasil. A Ilha de Fernando de Noronha (PE), um dos destinos mais procurados, restringiu o número de visitantes: são no máximo 132 mil por ano e 11 mil por mês. Também em Pernambuco, o número de passageiros para Porto de Galinhas _____ um aumento de 19% em relação a 2022.

(Julia Estanislau. *Cidades sofrem com o “overtourism” e turistas enfrentam retaliação de residentes e governos locais.* <https://jornal.usp.br, 22.09.2023>. Adaptado)

Quanto à concordância, as lacunas do texto são, correta e respectivamente, completadas por:

- (A) gera ... o visita ... houveram ... tiveram
- (B) gera ... os visitam ... houve ... teve
- (C) geram ... os visita ... houveram ... teve
- (D) geram ... o visitam ... houve ... tiveram
- (E) geram ... os visitam ... houve ... teve

10. O acento indicativo de crase foi corretamente empregado em:

- (A) Nos períodos de férias escolares, cidades litorâneas tendem à apresentar maior fluxo de carros.
- (B) Tem havido um crescimento no número de visitantes em relação à mesma estação do ano.
- (C) Fernando de Noronha é uma ilha pernambucana conhecida pela restrição imposta à turistas.
- (D) Turistas que visitam a praia de Porto de Galinhas se dirigem à ela para ter passar momentos de lazer.
- (E) Devem-se projetar às cidades para garantir mobilidade e comodidade aos seus habitantes.

11. Uma empresa possui determinado número de veículos em sua frota. No ano de 2023, $\frac{3}{8}$ desses veículos receberam

2 multas cada um, $\frac{5}{12}$ receberam uma só multa cada

um e os 5 veículos restantes dessa frota não receberam multas. O número de veículos dessa frota que receberam uma só multa em 2023 foi

- (A) 5.
- (B) 6.
- (C) 9.
- (D) 10.
- (E) 12.

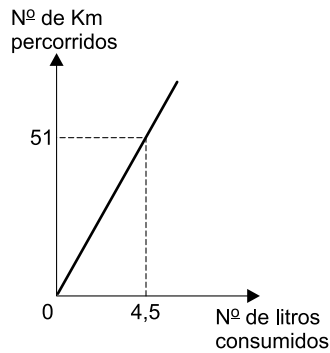
12. Uma palestra sobre Educação no Trânsito, feita em um colégio, contou com a presença de 153 adolescentes e 36 adultos. Após a palestra, todos os adolescentes e todos os adultos presentes foram divididos em grupos para uma atividade, de modo que todos os grupos ficaram com o mesmo número de participantes, sendo esse número o maior possível. Sabendo que não poderia haver adolescentes e adultos em um mesmo grupo, o número total de grupos formados foi

- (A) 25.
- (B) 21.
- (C) 17.
- (D) 12.
- (E) 9.

13. Uma conta foi paga com 10 dias de atraso. Em virtude disso, sobre o valor original a ser pago, foi acrescentada uma multa fixa de 10%, referente ao atraso em si, e mais um acréscimo de 0,5% do valor original, por dia de atraso. Se o valor total pago foi de R\$ 172,50, o valor original dessa conta era de

- (A) R\$ 110,00.
- (B) R\$ 120,00.
- (C) R\$ 130,00.
- (D) R\$ 140,00.
- (E) R\$ 150,00.

14. Suponha que a relação entre o número de litros de gasolina consumidos por um veículo e o número de quilômetros (Km) percorridos por ele, em uma estrada, seja dado pela função polinomial do 1º grau, cujo gráfico está representado a seguir.



Em certo momento, em que ainda havia 6 litros de gasolina no tanque do veículo, e faltando ainda 272 km de estrada a serem percorridos até seu destino, seu proprietário parou para abastecê-lo. Mantidas as condições de consumo de combustível informadas, o menor número de litros de gasolina que precisam ser acrescentados nesse tanque para que esse veículo possa chegar ao seu destino será

- (A) 18.
(B) 20.
(C) 24.
(D) 27.
(E) 30.
15. Em uma avenida, o número de multas por excesso de velocidade aplicadas na 2ª feira foi igual a $\frac{2}{3}$ do número de multas por excesso de velocidade aplicadas na 3ª feira. Sabendo que, nesses dois dias, foi aplicado o total de 20 multas por excesso de velocidade nessa avenida, então, o número de multas por excesso de velocidade aplicadas na 2ª feira foi

- (A) 12.
(B) 10.
(C) 8.
(D) 6.
(E) 4.

16. Em determinada região há 36 semáforos. Após uma chuva muito forte, a razão do número de semáforos que pararam de funcionar para o número de semáforos que continuaram funcionando era $\frac{5}{7}$. Depois de algumas horas, nas quais

nenhum outro semáforo parou de funcionar, determinado número dos semáforos que haviam parado de funcionar foram reparados, e voltaram a funcionar, de modo que a razão citada passou a ser de $\frac{1}{3}$. O número de semáforos

reparados foi

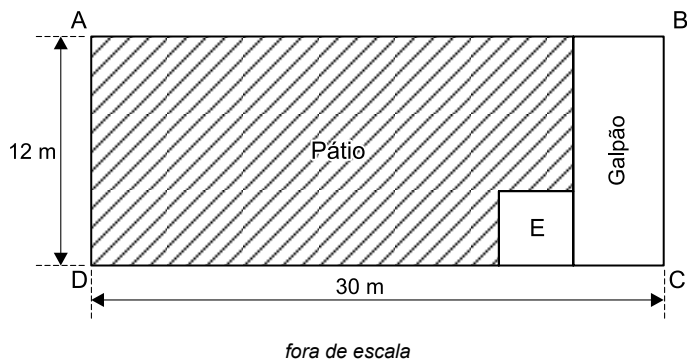
- (A) 8.
(B) 7.
(C) 6.
(D) 5.
(E) 4.
17. No pátio de recolhimento de veículos foram colocados 252 carros distribuídos em fileiras, com a mesma quantidade de carros em todas as fileiras. Sabendo que o número de fileiras é 7 vezes o número de carros colocados em cada fileira, então, o número de fileiras é
- (A) 14.
(B) 21.
(C) 28.
(D) 35.
(E) 42.
18. A tabela apresenta algumas informações sobre o número de pessoas atropeladas em uma determinada avenida, nos cinco dias de uma semana.

Dia	Nº de pessoas atropeladas
2ª feira	8
3ª feira	x
4ª feira	4
5ª feira	x + 3
6ª feira	13

Sabendo que a média aritmética do número de pessoas atropeladas na 5ª e na 6ª feira superou em 5 pessoas a média aritmética do número de pessoas atropeladas na 2ª, 3ª e 4ª feira, então, a média aritmética do número de pessoas atropeladas nesses cinco dias foi

- (A) 9.
(B) 8.
(C) 7.
(D) 6.
(E) 5.

19. Em um terreno retangular ABCD, com $AD = 12\text{ m}$ e $DC = 30\text{ m}$, foi construído um galpão retangular, um escritório (E) quadrado, e o restante do terreno foi utilizado como pátio para estacionamento, conforme mostra a figura.



Sabendo que as áreas do galpão e do escritório são, respectivamente, iguais a 60 m^2 e 16 m^2 , o perímetro do pátio, destacado na figura, é de

- (A) 62 m.
 (B) 66 m.
 (C) 70 m.
 (D) 74 m.
 (E) 78 m.
20. Em uma avenida há 3 semáforos, A, B e C, cujos ciclos são, respectivamente, iguais a 45 segundos, 30 segundos e 50 segundos, sendo que um ciclo corresponde ao intervalo de tempo entre o momento em que a luz verde acende até o momento em que a luz verde acende novamente. Às 8 horas, os 3 semáforos iniciaram simultaneamente um ciclo, e foram contadas quantas vezes esses 3 semáforos iniciaram um ciclo simultaneamente no período das 8 horas até às 10 horas. Não incluindo o ciclo iniciado às 8 horas, mas contando o ciclo iniciado às 10 horas, o número de ciclos iniciados simultaneamente foi

- (A) 16.
 (B) 14.
 (C) 12.
 (D) 10.
 (E) 8.

CONHECIMENTOS ESPECÍFICOS

21. Analise a figura.



(Arquivo pessoal; imagem usada com autorização)

A imagem mostra um caminhão trucado, utilizado no transporte de carga. Caso o condutor trafegue por uma rodovia de pista simples, não sinalizada com placas que regulamentem a velocidade máxima permitida, ele poderá trafegar com velocidade máxima de até:

- (A) 80 km/h
 - (B) 90 km/h
 - (C) 100 km/h
 - (D) 110 km/h
 - (E) 120 km/h
22. Caso o condutor de um caminhão trucado esteja conduzindo o veículo por uma estrada, não sinalizada por placas de velocidade máxima permitida, ele poderá trafegar com velocidade máxima de até:
- (A) 60 km/h
 - (B) 70 km/h
 - (C) 80 km/h
 - (D) 90 km/h
 - (E) 100 km/h
23. Os locais destinados a postos de gasolina, oficinas, estacionamentos ou garagens de uso coletivo deverão ter suas entradas e saídas devidamente identificadas, na forma
- (A) aprovada com laudo do corpo de bombeiros (AVCB).
 - (B) decretada pela prefeitura local (PM).
 - (C) deliberada pelo Departamento de Trânsito (Detran).
 - (D) regulamentada pelo Conselho Nacional de Trânsito (Contran).
 - (E) justificada pela Circunscrição de Trânsito (Ciretran).

24. De acordo com o artigo 98 do Código de Trânsito Brasileiro (CTB), os veículos classificados na espécie misto, tipo utilitário, carroçaria jipe, observadas restrições impostas pelo fabricante e exigências fixadas pelo Contran, poderão ter alterado o diâmetro externo do conjunto formado por
- (A) para-choques e reboques.
 - (B) rodas e pneus.
 - (C) faróis e lanternas.
 - (D) portas e maçanetas.
 - (E) frisos e borrachões.
25. Aos guindastes autopropelidos ou sobre caminhões poderá ser concedida, pela autoridade com circunscrição sobre a via, e atendidas as medidas de segurança consideradas necessárias, autorização especial de trânsito, com prazo de
- (A) três meses.
 - (B) seis meses.
 - (C) doze meses.
 - (D) dezoito meses.
 - (E) vinte e quatro meses.
26. Se conduzir veículo sem usar lentes corretoras de visão, aparelho auxiliar de audição, de prótese física ou as adaptações do veículo impostas por ocasião da concessão ou da renovação da licença para conduzir, o condutor comete uma infração
- (A) média.
 - (B) levíssima.
 - (C) grave.
 - (D) leve.
 - (E) gravíssima.
27. Se dirigir veículo sem realizar o exame toxicológico previsto no art. 148-A do CTB, um condutor comete uma infração gravíssima e terá como penalidade multa multiplicada por
- (A) dez vezes.
 - (B) cinco vezes.
 - (C) três vezes.
 - (D) quatro vezes.
 - (E) duas vezes.

28. Se disputar corrida sem autorização, um condutor comete infração gravíssima e terá como penalidade, além da multa, suspensão do direito de dirigir e apreensão do veículo. No caso de reincidência no período de doze meses da mesma infração cometida anteriormente, essa penalidade, de acordo com o parágrafo único do artigo 173 do CTB, será multiplicada por
- (A) quatro vezes.
 - (B) cinco vezes.
 - (C) dez vezes.
 - (D) quinze vezes.
 - (E) vinte vezes.
29. Assinale a alternativa que apresenta uma infração de natureza **grave** de acordo com o CTB.
- (A) Estacionar o veículo em viadutos, pontes e túneis.
 - (B) Ter o veículo imobilizado na via por falta de combustível.
 - (C) Estacionar o veículo nos acostamentos, salvo motivo de força maior.
 - (D) Parar na contramão de direção.
 - (E) Executar operação de retorno em curvas, aclives ou declives.
30. Onde não existir sinalização regulamentadora de velocidade em uma via arterial, caracterizada como uma via urbana, a velocidade máxima será de:
- (A) 80 km/h
 - (B) 60 km/h
 - (C) 50 km/h
 - (D) 40 km/h
 - (E) 30 km/h
31. Se transportar crianças em veículo automotor sem observância das normas de segurança especiais estabelecidas no CTB, um condutor comete uma infração gravíssima e terá como medida administrativa
- (A) remoção do veículo e suspensão da habilitação.
 - (B) retenção do veículo e apreensão da habilitação.
 - (C) retenção da habilitação e retenção do veículo.
 - (D) remoção do veículo para o pátio da prefeitura.
 - (E) retenção do veículo até que a irregularidade seja sanada.
32. De acordo com o artigo 176 do CTB, em sinistro com vítima, se o condutor envolvido deixar de prestar ou providenciar socorro à vítima, podendo fazê-lo, comete uma infração gravíssima e terá como penalidade multa multiplicada por
- (A) três vezes.
 - (B) quatro vezes.
 - (C) cinco vezes.
 - (D) dez vezes.
 - (E) vinte vezes.
33. A penalidade de suspensão do direito de dirigir será imposta sempre que, conforme a pontuação prevista no art. 259 do CTB, o infrator que não exerce atividade remunerada (EAR) no campo de observação da CNH atingir, no período de 12 (doze) meses, a seguinte contagem de pontos:
- (A) 35 (trinta e cinco) pontos, caso constem 2 (duas) infrações gravíssimas na pontuação.
 - (B) 30 (trinta) pontos, caso constem 2 (duas) infrações gravíssimas na pontuação.
 - (C) 20 (vinte) pontos, caso conste 1 (uma) infração gravíssima na pontuação.
 - (D) 20 (vinte) pontos, caso constem 2 (duas) infrações gravíssimas na pontuação.
 - (E) 14 (quatorze) pontos, caso conste 1 (uma) infração gravíssima na pontuação.
34. Não sendo possível a autuação em flagrante, o agente de trânsito relatará o fato à autoridade informando os dados a respeito do veículo, de acordo com o § 3º do artigo 280 do CTB,
- (A) na guarnição da polícia militar.
 - (B) no grupamento de trânsito.
 - (C) na sucursal do Detran.
 - (D) no próprio auto de infração.
 - (E) na delegacia de trânsito que gerou a infração.

35. Analise a figura.



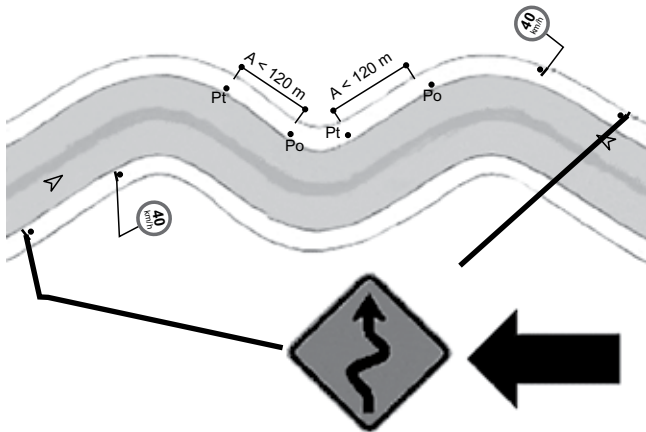
(Arquivo pessoal; imagem usada com autorização)

A placa deve ser colocada em função dos critérios de visibilidade, características específicas do local.

Em face de quadra superior a 60 m, devem ser colocadas duas ou mais placas, de modo que as placas extremas fiquem a uma distância superior a 5,0 m e do prolongamento do meio-fio da via transversal, no máximo a

- (A) 30 metros entre elas.
- (B) 25 metros entre elas.
- (C) 20 metros entre elas.
- (D) 15 metros entre elas.
- (E) 10 metros entre elas.

36. Analise a situação da via a seguir.



(Arquivo pessoal; imagem usada com autorização)

O nome correto da placa de sinalização indicada pela seta é:

- (A) Curva acentuada em "S" à direita.
- (B) Curva acentuada em "S" à esquerda.
- (C) Pista sinuosa à direita.
- (D) Pista sinuosa à esquerda.
- (E) Curva em "S" à esquerda.

37. A responsabilidade pela instalação da sinalização nas vias internas pertencentes aos condomínios constituídos por unidades autônomas e nas vias e áreas de estacionamento de estabelecimentos privados de uso coletivo é

- (A) da Engenharia de Tráfego.
- (B) da Prefeitura Municipal.
- (C) do Contran.
- (D) da construtora.
- (E) do proprietário.

38. Considere o texto a seguir.

A sinalização vertical de indicação é a comunicação efetuada por meio de um conjunto de placas, com a finalidade de identificar as vias e os locais de interesse, bem como orientar condutores de veículos e pedestres quanto aos percursos, destinos, acessos, distâncias, serviços auxiliares e atrativos turísticos, podendo também ter como função a educação do usuário.

A sinalização vertical de indicação está dividida nos seguintes grupos:

- placas de identificação;
- placas de orientação de destino;
- placas educativas;
- placas de serviços auxiliares;
- placas de atrativos turísticos;
- placas de _____.

(Manual Brasileiro de Sinalização de Trânsito, Contran. Adaptado)

A lacuna é corretamente preenchida, conforme a Resolução 973/22 do Contran, por:

- (A) regulamentação
- (B) indicação
- (C) postos de fiscalização
- (D) advertência
- (E) pistas irregulares

39. O uso de medidores do tipo portátil para a fiscalização do excesso de velocidade, conforme descrito no artigo 7º da Resolução 798/20 do Contran, é restrito em algumas situações. No caso das vias urbanas e rurais com características urbanas, tal uso será restrito quando a velocidade máxima permitida for igual ou superior a:

- (A) 100 km/h
- (B) 90 km/h
- (C) 80 km/h
- (D) 70 km/h
- (E) 60 km/h

40. De acordo com o artigo 3º da Resolução 798/20 do Contran, os medidores de velocidade com registro de imagem instalados em local definido e em caráter duradouro é denominado medidor

- (A) longitudinal.
- (B) seccionado.
- (C) intermediário.
- (D) fixo.
- (E) panorâmico.

